

المرحلة الاولى  
الدراسات الصباحية والمسائية



## امتحان النهائي الدور - الفصل الدراسي الثاني

⌘ ملاحظة: الإجابة على اربعة اسئلة فقط / الاجابة تمام / 16/1/2023

⌘ وتوزع الدرجات بالتساوي لكل سؤال 12.5 درجة

س1: املأ الفراغات التالية بما يناسبها :

1. البيانات غير المبوبة هي بيانات أولية يتم جمعها من \_\_\_\_\_.
2. جدول \_\_\_\_\_ يعطينا عدد المفردات التي تقل قيمتها عن الحد الأدنى لفئة معينة.
3. يتأثر المنوال بالقيم \_\_\_\_\_.
4. بعد عملية جمع البيانات يتم عرضها وتمثيلها وفق الاساليب التالية \_\_\_\_\_ و \_\_\_\_\_.
5. هي الفئة التي تقابل نصف مجموع التكرارات أو اكثر.

\*\*\*\*\*

س2: اجب بكلمة صح او خطأ لكل من العبارات التالية وصحح الخطأ ان وجد :

1. طريقة الحصر الشامل تعتمد على دراسة الظاهرة أو المجتمع من خلال عناصره او جميع اجزاءه.
2. الوسط الحسابي للبيانات المبوبة هو عبارة عن حاصل قسمة مجموع حاصل ضرب مراكز الفئات  $\times$  تكرارها على مجموع التكرارات.
3. ان مجموع التكرارات يجب ان يساوي دائما العدد الكلي لقيم الظاهرة .
4. قد يكون هناك اكثر من قيمة للمنوال بين قيم المشاهدات او لا توجد قيمة للمنوال.
5. يعتبر المدى احد مقاييس التشتت المطلق.

\*\*\*\*\*

س3/ اذا توفرت بيانات الجدول الاتي:

الفئات	37-39	40-42	43-45	46-48
التكرار	2	7	4	2

اوجد 1. التكرار المتجمع الصاعد. 2. التكرار النسبي 3. الحد الأدنى والحد الأعلى للفئات.

\*\*\*\*\*

س4/ (أ) اذا توفرت البيانات التالية  $x_i = 3, 7, 9, 11, 21$  ،  $y_i = 1, 5, 7, 17, 31$

اوجد 1.  $\frac{\sum x_i^2}{3}$  2.  $\sum (y_i^2 - 2)$

(ب) عرف كل مما يأتي : طريقة الحصر الشامل . 2. الفرائض الاحصائية.

\*\*\*\*\*

س5/ اذا توفرت بيانات الجدول الاتي:

الفئات	60-62	63-65	66-68	69-71	72-74
التكرار	5	18	42	27	8

اوجد 1. المنوال . 2. الوسيط.

مع دعائي لکم بالتوفيق

عميد الكلية

أ.م.د. وليد مية رودين

رئيس القسم

أ.م.د. وليد مية رودين

مدرس المادة

أ.م.د. دريد حسين بدر





جامعة البصرة  
كلية الإدارة والاقتصاد  
قسم نظم المعلومات الإدارية  
اسئلة الامتحان النهائي  
للعام الدراسي ٢٠٢٢-٢٠٢٣



المادة : اللغة العربية المرحلة : الاولى التاريخ: ١٣ / ٦ / ٢٠٢٣ الزمن : ساعتان فقط أ

ملاحظة: الإجابة عن خمسة أسئلة فقط لكل سؤال (١٠) درجات .

السؤال الأول / اكتب كلمة (صح) امام العبارة الصحيحة وكلمة (خطأ) امام العبارة الخاطئة مع تصحيح الخطأ إن وجد.

- ١) الحكم الإعرابي لـ ( اسم إن ) الرفع .
- ٢) الحكم الإعرابي لـ ( خبر كان ) الجر .
- ٣) الحكم الإعرابي لـ ( المبتدأ والخبر ) النصب .
- ٤) الحكم الإعرابي لـ ( المبتدأ ) إذا وقع في جواب الاستفهام يحذف جوازاً .
- ٥) الحكم الإعرابي لـ ( الخبر ) إذا وقع بعد إذا الفجائية يحذف وجوباً .

السؤال الثاني / اختر الإجابة الصحيحة من بين الاقواس الآتية :

- ١) حكم المبتدأ أن يأتي .... ( أ- منصوب ، ب - مجرور ، ج- مرفوع ) .
- ٢) تعرب كلمة لفظة الجلالة ( الله ) في قوله تعالى : (( وكان الله غفوراً رحيماً )) ... ( أ- مبتدأ ، ب- خبر كان ، ج- اسم كان ) .
- ٣) ..... فعل ناقص يفيد التحويل ( أ- صار ، ب- كان ، ج- ليت ) .
- ٤) ..... من الأحرف المشبهة بالفعل يفيد التشبيه ( أ- إن ، ب- كأن ، ج- ليت ) .
- ٥) ..... هو اسم مرفوع يقع في بداية الجملة غالباً ( أ- الخبر ، ب- المبتدأ ، ج- المفعول به ) .

السؤال الثالث / مثل لما يأتي في جملة تامة :

- ١) مبتدأ يأتي اسماً ظاهراً .
- ٢) خبر يأتي اسماً ظاهراً .
- ٣) اسم ( كان ) يأتي ضميراً بارزاً .
- ٤) اسم ( إن ) يأتي ضميراً متصلاً .
- ٥) حرف مشبه بالفعل يفيد التمني .

السؤال الرابع / وضح معاني كل مما يأتي :

( كان ، ظل ، ليس ، لكن ، ليت ) .

السؤال الخامس / عدد فقط عصور الأدب العربي .

السؤال السادس / أذكر الفرق بين الجملتين الآتيتين :

- ليثما الربيع دائم
- ليثما الربيع دائم

مع تمنياتي لكم بالنجاح


رئيس القسم

د. نبيل كافي

أ.د. وليد مية رودين

مدرس المادة

عبدالله





جمهورية العراق  
وزارة التعليم العالي والبحث العلمي  
جامعة البصرة




قسم نظم المعلومات الادارية الدور الاول للعام الدراسي ٢٠٢٢-٢٠٢٣  
الدراسات الصباحية والمسائية

المادة : الديمقراطية... المرحلة : الاولى ... التاريخ : ٧/١٥... اليوم : السبت الزمن : ثلاث


ملاحظة : الاجابة على خمسة اسئلة وتوزع الدرجات بالتساوي

- س١ : تكلم عن مفهوم الديمقراطية بشكل مفصل مع اشكال وصور الديمقراطية؟ (١٠ درجات)
- س٢ : عدد اهم مزايا الديمقراطية بشكل مفصل ودقيق؟ (١٠ درجات)
- س٣ : تكلم عن التطور الدستوري في العراق وماهي اهم الدساتير التي مر بها العراق عددها بشكل مفصل ودقيق؟ (١٠ درجات)
- س٤ : ماهي اهم النقاط الاساسية في اهمية الانتخابات عددها بشكل مفصل؟ (١٠ درجات)
- س٥ : تكلم بشكل مفصل عن العلاقة بين حقوق الانسان والديمقراطية؟ (١٠ درجات)
- س٦ : ماهي اهم الضمانات التي تكفل الحقوق والحريات العامة عددها مع الشرح؟ (١٠ درجات)
- س٧ : تكلم عن الديمقراطية المعاصرة بأنها منهج وليست عقيدة؟

مع تمنياتي لكم بالنجاح

  
رئيس القسم  
أ.م. د. وليد مية رودين

  
السيد السيد  
أ.د. عبد الحسين توفيق شبلي

  
مدرس المادة  
م.م. مسلم خريبط شرينم





جامعة البصرة  
كلية الإدارة والاقتصاد  
قسم نظم المعلومات الإدارية  
اسئلة النهائي- الفصل الثاني  
الدور الثاني  
للعام الدراسي ٢٠٢٢-٢٠٢٣



الزمن : ساعتين فقط

المادة : مبادئ الإدارة المرحلة : الأولى - صباحي ومساوي التاريخ:

ملاحظة: الإجابة على خمسة أسئلة فقط لكل سؤال ١٠ درجات.

السؤال الأول/ ما هي اغرض الرقابة؟ عددها مع الشرح.

السؤال الثاني/ قارن بين القوة الشخصية الذاتية و قوة الموقع الوظيفي.

السؤال الثالث/ اكتب كلمة (صح) امام العبارة الصحيحة و كلمة (خطأ) امام العبارة الخاطئة مع تصحيح الخطأ ان وجد.

١- تركز الرقابة المالية على عمليات تحويل الموارد و المدخلات الى منتجات في شكل سلع و خدمات.

٢- التخصص الوظيفي هو تحديد المسؤوليات الفردية المرتبطة بوظيفة معينة.

٣- قيادة منتصف الطريق وفق اسلوب الشبكة القيادية هي اهتمام تام بالفراد و حاجاتهم و النتائج و متطلباته.

٤- ان النظام الرقابي الذي يقدم اراء عمومية وصفية و غير محددة كمياً هو افضل من ذلك الذي يعطي تفاصيل كمية و محددة.

٥- عندما يتساوى الاداء الفعلي مع المعايير و الاهداف فيجب على المنظمة اتخاذ الاجراءات التصحيحية.

٦- احدى اساسيات التنظيم الرسمي و الهيكل الرسمي هي قنوات الاتصال.

٧- من فوائد التخصص الوظيفي هو قيام العامل او الموظف بأنجاز مهمة صغيرة معروفة الحدود.

٨- الهيكل التنظيمي هو نظام يوضح المهام و العلاقات بين وحدات التنظيم و روابط الاتصال بينها.

٩- التدوير بالوظائف هو خيار يلجأ اليه المدير كبديل للتخصص الوظيفي يشتمل على تحريك العاملين من وظيفة الى اخرى بشكل منهجي و منظم.

١٠- القيادة الرسالية هي القيادة التي لها القدرة على رؤية المستقبل بوضوح و فهم الاسلوب الذي من خلاله تستطيع الوصول اليه.

السؤال الرابع / أ- استعرض الاساليب القيادية موضحاً خصائص كل منها؟

ب- ما هي خصائص النظام الرقابي؟ عددها فقط.

السؤال الخامس / وضح بالرسم اثنين من الاتي:

٣- هيكل مصفوفي

٢- انواع الرقابة وفق موعدها

١- مدخل خصائص الوظيفة

السؤال السادس / ما المقصود بالتنظيم؟ وماهي مراحل العملية التنظيمية؟


مع تمنياتي لكم بالنجاح



أ.د. عبدالحسين توفيق شبلي

/٤

عميد الكلية



أ.د. وليد مية رودين

رئيس القسم



م.م. محمد هاشم الشرع

مدرس المادة



أولى

المادة: حاسوب 2  
الزمن: ساعتين  
العام الدراسي 2022-2023



وزارة التعليم العالي والبحث العلمي  
جامعة البصرة  
كلية الإدارة والاقتصاد  
قسم نظم المعلومات الإدارية

امتحان النهائي الدور الأول - الفصل الدراسي الثاني

ملاحظة: الإجابة على خمسة اسئلة فقط على ان يكون السؤال الاول من ضمنها

س1/ باستخدام كتابة ضيق برنامج الاكسل على القيم الظاهرة في الجدول ادناه احسب ماياتي: ثم ارسم الجدول بالقيم الجديدة والنتائج.

(10 درجات)

- 1- مجموع الصف الثاني
- 2- اعلى قيمة للصف الثالث
- 3- تحويل الارقام السالبة الى موجبة
- 4- تحويل الارقام العشرية الى ارقام صحيحة

	A	B	C	D
1	الرقم الاول	الرقم الثاني	الرقم الثالث	النتائج
2	102	17	6	
3	397	367	388	
4	-30	35.3	-25	
5	12.2	23.6	-67	

س2/ اجب بكلمة (صح) امام العبارة الصحيحة و كلمة (خطأ) امام العبارة الخاطئة مع تصحيح الخطأ ان وجد:  
(10 درجات)

- 1- هنالك طريقة واحدة لتشغيل برنامج الجداول الالكترونية (الاكسل) من خلال نظام التشغيل الويندوز.
- 2- ان الاسم الافتراضي لملف الاكسل الذي يظهر في شريط العنوان هو Document1.
- 3- في ورقة العمل لتحديد خلايا متجاورة ننقر على الخلية الاولى ثم من لوحة المفاتيح نضغط على مفتاح Shift.
- 4- في برنامج الاكسل تستخدم الدالة MIN في حساب المتوسط الحسابي.
- 5- في برنامج الاكسل يمكن الدخول الى ايعاز طباعة من خلال قائمة ادراج.

س3/ ارسم النافذة الرئيسية برنامج الجداول الالكترونية الاكسل مع اظهار الاشرطة الرئيسية المكونة لهذه النافذة.  
(10 درجات)

(10 درجات)

س4/ املا الفراغات التالية بما يناسبها:

- 1- في برنامج الاكسل يكون ناتج الصيغة التالية  $3 + 2 * 4^2 =$  هو \_\_\_\_\_.
- 2- في برنامج الاكسل, عند ظهور رسالة الخطأ ##### هذا يعني ان \_\_\_\_\_.
- 3- في برنامج الاكسل للدخول على ايعاز تصفية نضغط على القائمة \_\_\_\_\_ من شريط التبويبات.
- 4- ان الخلية الموجودة في ورقة العمل هي ناتج تقاطع \_\_\_\_\_.
- 5- في برنامج الاكسل, باستخدام لوحة المفاتيح نضغط على المفتاح \_\_\_\_\_ للانتقال صفحة الى الاعلى.

س5/ عرف الصيغ في برنامج الاكسل, ثم عدد مع الشرح باختصار المكونات الاساسية للصيغ


(10 درجات)


س6/ اختر الاجابة الصحيحة مما يأتي:


- 1- في برنامج الاكسل تستخدم الدالة Round في حساب  
أ- المتوسط الحسابي ب- اعلى قيمة ج- القيمة المطلقة د- غير ذلك
- 2- في برنامج الاكسل تعتبر دالة Average من الدوال  
أ- الرياضية ب- المالية ج- الاحصائية د- غير ذلك
- 3- من المهام الرئيسية لبرنامج الاكسل هي  
أ- انشاء ماكرو ب- تصميم شبكات ج- كلغة برمجية د- غير ذلك
- 4- في برنامج الاكسل يمكن اظهار مكونات الخلية النشطة عن طريق شريط  
أ- التبويبات ب- المهام ج- الصيغة د- غير ذلك
- 5- في برنامج الاكسل يمكن انشاء مصنف جديد عن طريق قائمة  
أملف ب- ادراج ج- الصفحة الرئيسية د- غير ذلك

(10 درجات)

مع تمنياتي لكم بالتوفيق

  
أ.د. عبد الحسين توفيق شبلي

  
رئيس القسم  
أ.م.د. وليد مية رودين

  
مدرس المادة  
م. احمد ناصر





امتحان النهائي الدور الأول - الفصل الدراسي الثاني

⌘ ملاحظة: الإجابة على اربعة اسئلة فقط ⌘

**السؤال الأول (12.5 درجة):** في 4 / 5 / 2020 بدأ التاجر باسم أعماله التجارية بمجموعة فقرات موزعة بشكل نقدية بالصندوق بمبلغ وقدره 250000 دينار و 200000 دينار بشكل نقدية بالمصرف وقرض من شركة السعادة وقدره 50000 دينار.

في 5/5/2020 قام التاجر باسم بشراء بضاعة من التاجر جمال بمبلغ 21000 دينار ثلثها نقدا والباقي على الحساب.

في 7/5/2020 تم سداد المبلغ المستحق للتاجر جمال نقداً.

في 9/5/2020 قام المالك بتخفيض رأس المال بنسبة 20% نقداً.

في 10/5/2020 تم شراء سيارات لاستخدامها في أعمال الشركة بمبلغ 60,000 دينار ربعها نقدا والربع الآخر بشيك والمتبقي مقسم ما بين ورقة تجارية و شراء بالاجل.

في 11/5/2020 تم سداد التاجر باسم القرض الذي بذمته إلى شركة السعادة وذلك بدفع 30% منه نقدا و 30% عبارة عن سيارات والباقي بشيك.

المطلوب : 1- تسجيل قيود اليومية في دفتر اليومية. 2- اعداد دفتر الاستاذ العام لحسابي رأس المال وحساب القرض

**السؤال الثاني (12.5 درجة):** في بداية السنة بدأ احمد عملة بمشروع عبارة عن ورشة لصيانة وتصليح السيارات ، ففي الشهر الأول من السنة قام بمجموعة من العمليات التالية:

في 1/2 خصص مبلغ 16000 دينار كرأس مال فيه بيد عمله التجاري حيث أودعها في صندوق المشروع.

في 5/1 اشترى آلات من شركة العطاء قيمتها 3600 دينار نصفها نقدا والباقي على ورقة تجارية تستحق الدفع .

في 7/1 اشترى أدوات ومعدات قيمتها 480 دينار من شركة عرفات على الحساب.

في 10/1 دفع مبلغ 320 دينار مصروفات تأمين نقداً.

في 21/1 سدد رصيد شركة عرفات نقداً.

في 28/1 اشترى مكتب قيمته 160 دينار نقداً.

في 31/1 دفع مصاريف كهرباء 60 دينار نقداً.

المطلوب: 1- اعداد دفتر الأستاذ العام المتعلق بالعمليات اعلاه. 2- اعداد ميزان المراجعة

**السؤال الثالث (12.5 درجة):** الأرصدة التالية مستخرجة من دفتر استاذ شركة ايناس التجارية في 31 / 12 / 2021

100000 دينار مباني ، 4000 دينار أثاث، 8000 دينار مردودات المبيعات، 25000 معدات، 1000 فوائد

مكتسبة ، 2500 ربح بيع معدات ، 12000 دينار ضرائب التصدير ، 4000 مصاريف نقل المبيعات ، 10000

دينار بضاعة اول المدة، 90000 دينار نقدية، 24000 دينار المشتريات، 3000 خسارة بيع موجودات ،

36000 دينار مدينون، 2000 دينار فوائد قروض، 20000 دينار أوراق القبض، 1700 دينار عمولة وكلاء

الشراء، 600 دينار أجور، 300 دينار إيجار، 9000 دينار مصاريف بيعية، 00100 دينار مصاريف إدارية ،

19000 دينار مبيعات، 29000 دينار دانتون، 1000 دينار مطبوعات وقرطاسية ، 8000 دينار دينار أوراق

دفع، ؟؟ دينار رأس المال، 11000 دينار مردودات المشتريات.

المطلوب: إعداد ميزان المراجعة وأعداد حساب الأرباح والخسائر في 31 / 12 / 2021 مبيناً قيمة رأس المال.

**السؤال الرابع (12.5 درجة):**

الآتي أرصدة مستخرجة من دفتر الأستاذ لمخزن حسام الدين في نهاية السنة المالية المنتهية في 2022 /12/31 (المبالغ بالدنانير) مردودات المشتريات 350 - الصندوق 1950- المبيعات 21750 - المسحوبات 800 - ضرائب استيراد 600 - مردودات المبيعات 300 - البنك 3150 - أوراق القبض 850 - أوراق الدفع 650- الدائنون 750 - بضاعة ( أول المدة ) 6750 -المشتريات 13250- المباني والأراضي 8400 - خصم مكتسب 150- المدينون 1150 - مسموحات المبيعات 200 - نقل المشتريات 150 - نقل المبيعات 180- ضرائب تصدير 500 - عمولة وكلاء الشراء 200 - خسائر بيع الموجودات الثابتة 550 - خسائر الحريق 2750 - خسائر الغريق 3500 - عمولة وكلاء البيع 400 - عمولة وكلاء الإخراج الكمركي 120 - الرواتب 960 - أرباح بيع الموجودات الثابتة 450 - أرباح الياصيب 5000 - الأجور 640 - خصم المسموح به 100 - إيجار المحل 480 - ماء وكهرباء وتلفون 20 - إيراد عقار 720 - إيراد أوراق مالية 130 - عمولة مكتسبة 50 - فوائد مسموح بها 100 - فوائد مكتسبة 150 - فوائد القروض 200 - الأثاث 600 - السيارات 3000 - القرطاسية المطبوعات 120 - رأس المال ؟ - بضاعة آخر المدة قدرت بمبلغ 8250 دينار .

المطلوب : اعداد الميزانية العمومية كما هي عليه في 2022 /12/31 : موضحاً هل الشركة حققت صافي ربح ام صافي خسارة.

**السؤال الخامس (12.5 درجة):** بدأ جواد عمله التجاري وحدثت لديه الصفقات التجارية التي ظهرت في سجلاته المحاسبية لعام 2021. في 1/1/2021 أستثمر التاجر جواد عمله التجاري برأسمال قدره 20000 دينار كالاتي: 50% نقدية في الصندوق لدى الشركة و 25% على شكل نقدية في مصرف بغداد والباقي مدينون..


في 2/1/2021 تم شراء بضاعة بالاجل بمبلغ 9000 دينار من شركة سلام التجارية بمبلغ 2000 دينار نقدا و 2000 على شكل ورقة تجارية والباقي على الحساب


في 4/1/2021 تم شراء الالات ومعدات بمبلغ 8000 دينار نصفها بشيك والباقي على شكل ورقة تجارية


في 8/1/2021 دفع التاجر جواد مبلغ 1000 دينار نقدا الى التاجر سلام.

في 12/1/2021 استلم التاجر جواد 300 دينار من السيد أسعد ( السيد أسعد مدين)

المطلوب: بين تأثير العمليات ادناه على الأصول والخصوم وحقوق الملكية من خلال استخدامك للمعادلة المحاسبية

  
أ.د. عبد الحسين توفيق شبلي

  
رئيس القسم  
أ.م.د. وليد مية رودين

  
مدرس المادة  
أ.م.د. طارق توفيق يوسف





الامتحان النهائي الدور الأول الفصل الدراسي الثاني للعام الدراسي 2022-2023

ملاحظة: الإجابة عن خمسة أسئلة فقط (10 درجات لكل سؤال)

س1: يتسم الاقتصاد المتقدم بعدد من الخصائص الأساسية، ما هي هذه الخصائص؟

س2: ما هي طرق تقدير الناتج القومي، عددها مع التوضيح لكل طريقة من هذه الطرق؟

س3: اشرح التدفق الدائري للإنتاج والدخل، مع توضيح العلاقات من خلال المخطط؟

س3: ما هي الوسائل التي يمكن إن تلجا إليها الحكومة لتغطية العجز في الموازنة العامة؟ وضح ذلك مع رسم المخطط؟

س5: بالرغم من أن الناتج القومي يعتبر مؤشرا مفيدا لأداء الاقتصاد القومي إلا أنه لا يعتبر بالضرورة مؤشرا للرفاهية الاجتماعية وضح ذلك؟

س6: ضع صح أم خطأ لكل مما يأتي

- 1- الدخل النقدي هو عدد الوحدات النقدية التي يحصل عليها الفرد أما الدخل الحقيقي فهو حجم السلع والخدمات التي يحصل عليها المستهلك بإتفاق دخله النقدي لذا فإن الدخل الحقيقي يعتمد على الدخل النقدي وأسعار السلع والخدمات المشتراة .
- 2- يعرف الاقتصاديون الادخار على أنه الامتناع عن الاستهلاك أو ذلك الجزء من الدخل القابل للتصرف الذي لا ينفق على السلع الاستهلاكية .
- 3- يمثل الدخل الفردي إجمالي الدخل المحصل للقطاع العائلي خلال سنة معينة قبل دفع الضرائب الفردية ويمثل الدخل القابل للتصرف ذلك الجزء المتبقي من الدخل المحصل للقطاع العائلي خلال سنة معينة بعد دفع الضرائب الفردية .
- 4- إن الدخل القومي يمثل مجموع دخول عناصر الإنتاج التي تنشأ عن الإنتاج الجاري للسلع والخدمات. ويمكن الحصول عليه من الناتج القومي الصافي بعد طرح الضرائب غير المباشرة والمدفوعات التحويلية لقطاع الاعمال.
- 5- الناتج القومي الصافي يحتوي الناتج القومي الإجمالي على عيب أساسي بصفته مقياسا للأداء الاقتصادي للمجتمع إذ يعطى صورته مبالغيا فيها للإنتاج السنوي، لأنه يعجز عن تخصيص جزء من الإنتاج السنوي لمقابله الإحلال الضروري للسلع الرأسمالية المستهلكة في العملية الإنتاجية خلال سنة .

مع التمحيات لكم بالنداح

عميد الكلية  
أ.د. عبد الحسين توفيق شبد

رئيس القسم  
أ.م.د. وليد مية رودين

مدرس المادة  
أ.م.د. سكتة جهيه فرج

المادة: مبادئ نظم معلومات ٢ (أول)  
الزمن: ساعتين  
العام الدراسي ٢٠٢٢-٢٠٢٣

أول



وزارة التعليم العالي والبحث العلمي  
جامعة البصرة  
كلية الإدارة والاقتصاد  
قسم نظم المعلومات الإدارية

امتحان النهائي الدور الأول - الفصل الدراسي الثاني

⌘ ملاحظة: الإجابة على خمسة أسئلة فقط ⌘

س١/ عرف مايلي (١) - امن المعلومات ٢-قاعدة المعرفة ٣-إمكانية العمل في ظل الظروف الخطرة ٤-  
قاعدة البيانات ٥- قاعدة البيانات الهرمية ( ١٠ درجات )

س٢/ قارن بين مزايا و عيوب استخدام النظم الخبيرة؟ (١٠ درجات)

س٣/ عرف قرصنة المعلومات وما هو الهدف منها بالتفصيل؟ (١٠ درجات)

س٤/ قارن بين مزايا و عيوب لاثنين مما يلي:-

- ١- مزايا قاعدة البيانات العلائقية و عيوبها
  - ٢- مزايا و عيوب قاعدة البيانات الموزعة
  - ٣- مزايا و عيوب قاعدة البيانات الشبكية
- (١٠ درجات)

س٥:- ١- ارسم شكلا يوضح به مكونات نظام إدارة الوثائق


٢- نموذج هرمي لقاعدة بيانات العاملين في جامعة حلب (١٠ درجات)


س٦:- عدد مع الشرح والرسم اهم برمجيات المكاتب؟


(١٠ درجات)

س٧/ قارن بين الاحتياجات الإدارية لنظم قواعد البيانات ومعوقات تطوير نظم قواعد البيانات

(١٠ درجات)

  
عميد الكلية  
ع.أ.د. عبد الحسين توفيق شبلي

  
رئيس القسم  
أ.م.د. وليد مية رودين

  
مدرس المادة  
م.د. عرفات ناصر جاسم



المرحلة الثانية  
الدراسات الصباحية





جامعة البصرة  
كلية الادارة والاقتصاد  
قسم نظم المعلومات الادارية  
اسئلة النهائي- الفصل الثاني  
الدور الثاني  
للعام الدراسي ٢٠٢٢-٢٠٢٣



المادة : ادارة الموارد البشرية المرحلة : الثانية التاريخ : ٢٠٢٢-٢٠٢٣ الزمن : ساعتين فقط

ملاحظة: الإجابة على خمسة أسئلة فقط لكل سؤال ١٠ درجات. / الإجابة على ١٠/١٤

السؤال الأول/ ما هي اهداف ادارة الموارد البشرية؟

السؤال الثاني/ ما هي العوامل المحددة لأتباع الاسلوب المركزي او اللامركزي في تنظيم الموارد البشرية ؟ عددها مع الشرح.

السؤال الثالث/ اكتب كلمة (صح) امام العبارة الصحيحة و كلمة (خطأ) امام العبارة الخاطئة مع تصحيح الخطأ ان وجد.

١- ان التنبؤ بالطلب على الموارد البشرية احد اهم مراحل تخطيط الموارد البشرية.

٢- ان احد انشطة مدير الموارد البشرية هو تدريب المديرين الاخرين.

٣- ان احد الاسباب التي ادت الى عدم الاهتمام بالموارد البشرية سابقاً هو حالة الاستقرار التقني النسبية و تواضع المهارات و القدرات البشرية المطلوبة للتعامل مع التقنيات السائدة.

٤- يطلق خبراء ادارة الاعمال مصطلح " ذكاء الموهبة" على مدى اقتران المواهب بالانجازات.

٥- يعاب على طريقة المقالة في تقويم اداء العاملين بأنها تحتاج الى وقت طويل لانجازها.

٦- تتكون مخرجات الموارد البشرية من الاهداف، السياسات و التشريعات، الموارد البشرية، الموارد المادية و الموارد التنظيمية.

٧- يعتبر التحيز الشخصي من المشاكل الموضوعية في عملية تقويم الاداء.

٨- تعتبر عملية الاختيار الوظيفية الثانية من وظائف ادارة الموارد البشرية.

٩- استناداً الى طريقة ترتيب الموظفين البسيط يتم مقارنة الافضل اداء بالاسوء اداء حيث يتم وضع الافضل اداء في المرتبة الاولى و الاسوء اداء في ذيل القائمة و من ثم يتم اعادة الامر لباقي الموظفين.

١٠- يشترط في معيار تقويم الاداء ان يكون دقيقاً في التعبير و كذلك ان تكون نتائج القياس غير ثابتة في حالة

القيام بقياس اداء الفرد لمرات اخرى.



السؤال الرابع / أ- ما هي العوامل الداخلية والخارجية المؤثرة في تخطيط الموارد البشرية؟ عددها فقط.

ب- ما هي التحديات التي تواجه ادارة الموارد البشرية في الوقت الحالي؟ عددها فقط

السؤال الخامس / وضح بالرسم اثنين من الاتي:

- ١- خطوات تحليل الوظائف. ٢- الخطط التي يمكن ان تستخدمها المنظمة لاجراء الموازنة ٣- النظام اللامركزي لأدارة الموارد البشرية

السؤال السادس / ما هي الجوانب الاساسية في تحليل الوظائف؟ عددها مع الشرح.

مع تمنياتي لكم بالنجاح



أ.د. عبدالحسين توفيق شبلي

عميد الكلية



أ.د. وليد ميه رودين

رئيس القسم



م.م. محمد هاشم الشرع

مدرس المادة



امتحان النهائي الدور الأول - الفصل الدراسي الثاني

⌘ ملاحظة: الإجابة على خمسة أسئلة فقط ⌘

س 1/ ضع كلمة (صح) أو (خطأ) ثم صحح الخطأ

1. الويب هو مشاركة مستندات من شخص الى آخر عبر الانترنت.
2. يمتاز الزبائن في هذا العصر بقلّة طلبهم لمنتجات جديدة ليست بالضرورة من الأساسيات الضرورية لهم.
3. من منظور الاتصالات، التجارة الالكترونية ماهي الا بيئة تمكن وتسهل عملية البيع والشراء للمنتجات والخدمات عبر الانترنت.
4. B2B في هذا النوع من التجارة الالكترونية يتم بيع المنتجات من شركة الى شركة أخرى وبدورها هذه الشركة تقوم بأعاده توزيعها أو بيعها الى مستهلكين وزبائن .
5. معظم الشركات الحالية تحولت من شركات معلوماتية رقمية الى شركات صناعية.

س 2/ ما هي الاعمال الالكترونية؟ ثم بين الأهداف الرئيسية التي تعمل الاعمال الالكترونية لتمامها للشركات التجارية.


س 3/ أ- هناك ثلاث أفكار رئيسية تقوم عليها تزويد المعلومات التي يحتاجها الزبون من خلال التسويق المباشر ما هي؟

ب- المنتج أحد استراتيجيات التسويق الأربعة 4P's وضح بالتفصيل.

س 4/ وضح مميزات العملاء الجدد.

س 5/ ماهي الحوافز التي شجعت الشركات والافراد على تبني واستخدام التجارة الالكترونية وضح خمسة منها بالتفصيل.

س 6/ وضح باختصار إدارة العلاقة مع الزبائن الكترونياً eCRM ثم عدد المراحل الأساسية للعلاقة مع الزبائن.

  
عبد اكلية

أ.د عبد الحسين توفيق شبلي

  
رئيس القسم

أ.م.د وليد ميه رودين

  
مدرس المادة

م.م مريم سالم جبار





امتحان النهائي الدور الأول - الفصل الدراسي الثاني

⌘ ملاحظة: الإجابة على اربعة اسئلة فقط ولكل سؤال ١٢.٥ درجة ⌘

- س١١ اكتب الكود البرمجي باستخدام لغة الاستعلام البنيوي SQL؟
- ١- انشاء جدول باسم Student وصفاته (id, name, add) على ان يكون حقل id مفتاح اساسي و حقل name غير فارغ؟
  - ٢- انشاء جدول باسم Author وصفاته (id, name, bookid) على ان يكون حقلي id و bookid مفتاح اساسي؟
  - ٣- ادخال بيانات الى جدول student؟ علما ان الجدول يحتوي اربعة حقول (id, name, age, score)؟

س١٢ عرف النموذج؟ ثم اذكر خمسة اهداف من استخدام النماذج في برنامج الاكسس؟

س١٣ عرف التقارير؟ ثم وضح الطرق الرئيسية لعرض البيانات في التقارير؟

س١٤ ا- ما المقصود بمعايير الاستعلام؟ ثم اكتب ثلاثة رموز او معاملات نستخدمها في خانة المعايير في الاستعلام؟  
ب- تمعن في صياغته العلاقة التالية حيث : يعمل الموظف في قسم واحد و القسم يعمل فيه عدة موظفين . حيث ان القسم الواحد يشرف على عدة مشاريع . ارسم مخطط ال ERD ثم بين مفاتيح الكيانات والعلاقات بالتفصيل .

س١٥ ما دلالة العبارات التالية في لغة SQL؟

- 1-ALTER TABLE emp  
DROP CONSTRAINT PK-emp;
- 2- ALTER TABLE emp  
ADD email text;
- 3- ALTER TABLE emp  
ADD PRIMARYKEY (id);
- 4- CREAT TABLE emp1 As  
SELECT id , name  
FROM emp;

عميد الكلية  
أ.د. عبد الحسين توفيق سيلي

رئيس القسم  
أ.م.د. وليد مية رودين

مدرس المادة  
م. نورا حسن زكي



الامتحان النهائي الدور الأول - الفصل الدراسي الثاني

الاجابة على خمسة اسئلة فقط لكل سؤال 10 درجات

س1: اكتب برنامج بلغة سي بلس بلس يقوم بقراءة مصفوفة احادية البعد مكونة من 10 قيم عددية صحيحة ثم يحسب معدل قيم تلك المصفوفة.

س2: اوجد الخطا في البرنامج التالي:

```
1: #include<iostream>
2: using namespace std;
3: main() int
4: int A[25],SUM=0;
5: for(int i=1;i<25;i++)
6: cin>>A[25];
7: for(int i=1;i<=25;i++)
8: {
9: cout<<A[25];
10: }
11: return 0;
12: }
```

س3: اكتب برنامج بلغة سي بلس بلس يقوم بقراءة مصفوفة ثنائية البعد مكونة من 5 صفوف و5 اعمدة ثم حساب مجموع عناصر القطر الرئيسي .

س4: وضح الخطأ في اعلانات المصفوفة التالية:

```
int value[7]={10,11,12,13,14,15};
float coordinate[5]={0, 0.45, -0.5, -4.0, 5.0,16.0 };
char sex[2]={ M , F };
```

س5: اكتب برنامج بلغة سي بلس بلس يقوم بقراءة مصفوفة ثنائية البعد مكونة من 3 صفوف و5 اعمدة ثم حساب عدد القيم الصفرية في المصفوفة.

س6: اكتب برنامج بلغة سي بلس بلس يقوم بقراءة مصفوفة ثنائية البعد مكونة من 5 صفوف و5 اعمدة ثم حساب اصغر قيمة في المصفوفة .

مع التمنيات بالنجاح

عميد الكلية  
ع.أ.د. عبد الحسين توفيق شبلي

رئيس القسم  
أ.م.د. وليد مية رودين

مدرس المادة  
م. زينب صبيح جمعة





امتحان النهائي الدور الأول - الفصل الدراسي الثاني المرحلة الثانية

⌘ ملاحظة: الإجابة على خمسة اسئلة فقط ، ولكل سؤال ١٠ درجات ⌘

س١: اختر الإجابة الصحيحة :

- (١) النظام الامني لمنع المستخدمين الخارجيين غير المرخصين من الوصول الى النظام المتصل بالانترنت هو (FTP ، جدار النار ، البروتوكول)
- (٢) عدد البتات بالثانية الواحدة التي يمكن ارسالها او تلقيها هي ((١،٠)) (Baud ، Digital Signals)
- (٣) Wireless Fidelity و التي تعني الدقة اللاسلكية هي (٨٠٢.١١ ، WECA ، Wi-Fi)
- (٤) احد هذه الاختيارات ليست من المزايا التي توفرها الشبكات اللاسلكية (سهولة النقل ، التشويش ، سهولة التثبيت)
- (٥) تُعتبر بطاقة الشبكة من أهم مكونات جهاز الحاسوب الصلبة لانها (تسمح لجهاز الحاسوب الطبع على جهاز الطباعة، تمنع جهاز حاسوب من الاتصال بأي شبكة إنترنت ، ارسال واستقبال البيانات مع الاجهزة الاخرى في الشبكات )

س٢: أ/ اذكر خطوات انتقال الرسالة من مكان إلى آخر في الشبكة الموزعة ؟  
ب/ عدد خمس من مميزات مجتمع المعلومات ؟

س٣: قارن بين كل مما يلي :

(٢) الانترنت والاكسترنانت

(١) شبكة الحلقة وشبكة الناقل

س٤: اكمل كل من العبارات التالية :

- (١) من اجهزة الشبكة (١) ----- (٢) ----- (٣) -----
- (٢) من سلبيات شبكات المعلومات (١) ----- (٢) -----
- (٣) تُقاس سرعة المودم ب----- وانواع المودم هي: (١) ----- (٢) -----
- (٤) من الاوساط اللاسلكية هي (١) ----- (٢) -----

س٥: عدد فقط كل من :

(٢) عيوب الشبكات اللاسلكية

(١) مميزات شبكات المعلومات

س٦: وضح نظام الشبكات (OSI Layers) ، وعدد الطبقات التي يتكون منها هذا النموذج مع شرح واحدة فقط ؟

عميد الكلية  
أ.د. عبد الحسين توفيق شبلي

رئيس القسم  
أ.م.د. وليد مية رودين

مدرس المادة  
أندى بدر جراح

المادة: السلوك التنظيمي  
المرحلة: الثانية  
التاريخ: / / 2023  
الوقت: ساعتان



جامعة البصرة  
كلية الإدارة والاقتصاد  
قسم نظم المعلومات الإدارية  
الدراسة الصباحية

اسئلة الامتحان النهائي للفصل الدراسي الأول للعام الدراسي 2022-2023

ملاحظة: الإجابة على خمسة أسئلة فقط لكل سؤال عشر درجات النموذج (2)

س1/ عدد وشرح ما هي وظائف الدوافع في السلوك التنظيمي؟ (10 درجات).


س2/ عرف خمس من المصطلحات الآتية ( السلوك التنظيمي ، الإدراك ، الاتجاهات ، الدافعية ، الشخصية ، التعلم ) (10 درجات)؟

س3/ وضح كيف تسير العملية الإدراكية التفصيلية ؟ (10 درجات)


س4/ وضح بالتفصيل انواع التغير في الاتجاهات؟ (10 درجات).


س5/ اشرح بالتفصيل مبادئ التعلم معززاً اجابتك بالرسم ؟ (10 درجات)

س6/ اشرح بالتفصيل ماذا تعني نظرية الصفات الشخصية في السلوك التنظيمي ؟ (10 درجات)

  
عميد الكلية

أ.د. عبد الحسين توفيق شبلي / أ.م.د. وليد ميه رودين

  
رئيس القسم:

  
مدرس المادة:  
م. م. امل طه ياسين





السنة

جمهورية العراق  
وزارة التعليم العالي والبحث العلمي  
جامعة البصرة



الدور الاول ٢٠٢٢ - ٢٠٢٣

المادة : نظم المعلومات التسويقية.. المرحلة : الثانية ... التاريخ : ١٠/٧ ... اليوم : السبت ... الزمن : ~~ساعتين~~ ساعة واحدة

قسم نظم المعلومات الادارية/ للدراسات الصباحية

ملاحظة : الاجابة على خمسة اسئلة فقط وتوزع الدرجات بالتساوي

- س ١ : تكلم بشكل مفصل عن مفهوم نظام المعلومات التسويقية مع رسم المخطط لذلك ؟ (١٠ درجات)
- س ٢ : تكلم عن مفهوم نظام البحوث التسويقية وماهي لهم المجالات بحوث التسويق ؟ (١٠ درجات)
- س ٣ : عدد اهم انواع المعلومات التسويقية مع الشرح ؟ (١٠ درجات)
- س ٤ : ماهي اهم الامور التي يستلزم بها التخطيط للنشاط التسويقية القيام بها عددها مع الشرح مع رسم مخطط يوضح مفهوم المزيج التسويقي ؟ (١٠ درجات)
- س ٥ : تكلم عن دور نظام المعلومات التسويقية في صنع القرارات التسويقية بشكل مفصل ؟ (١٠ درجات)
- س ٦ : ماهي اهم مراحل تغير الاسعار ضمن مزيج التسعير في دورة حياة المنتج عددها مع الشرح ؟ (١٠ درجات)

مع تمنياتي لكم بالنجاح

رئيس القسم  
أ.م.د.وليد مية رودين

السيد العميد

أ.د. عبد الحسين توفيق شبلي

مدرس المادة

م.م. مسلم خريبط شريزم



University of Basrah  
College of Administration and Economics  
Department of Business Information System  
Final Exam  
Semester 2  
2022/2023



Subject: English Language Stage Two Date: Time: Two hours

*Q1/ Read these texts carefully and answer the following question:* ( 10 Marks )

Aziz came from Tunis to New York ten years ago. He wanted to study English here. At first, he missed everything-the sunshine, the food, and his family. But now he has a successful business with his three brothers and his wife. They run a sports store in New Brunswick. Aziz's wife is also Tunisian, and they have two children who go to American schools. When we asked about the future, Aziz says without hesitation, 'I want to work hard and be successful'. He certainly works hard. He's at the store all day, then works as a driver in the evening. 'I like living here,' he says. 'You can be what you want'.

1. Why and when did Aziz come to the US?
2. What does Aziz like about living in the US?
3. What was difficult at the beginning?
4. What does he say about the future?
5. Do they have children?

*Q2/Choose the correct answer. ( Answer 10 only)* ( 10 Marks )

1. Nurses..... after people in hospital? ( are looking / look / looks )
2. She ..... that book yet. ( isn't reading / doesn't read / hasn't read )
3. She..... for dinner this evening. ( came/ comes / is coming )
4. Have you ..... your homework? ( has done / already done / done )
5. I..... in my friend's house yesterday. ( sleep / was sleeping / slept )
6. The train.... Arrived. ( have already / has yet/ has just )
7. Salem ..... some ice cream to the party last night. ( bring / brought / brings )
8. I would like ..... sugar. ( any / some )
9. He has read .....English books. ( many / much )
10. I'm hungry, and there is .....food in the fridge. ( a little / few )
11. Last year I..... to Tunisia on holiday. ( go / went / am going )



Q3/ Complete the following sentence with suitable words in the blank. (Answer 10 only)  
(10 Marks)

(eat, communications, learn, idea, born, important, show, kind, swimming, wear, live)

1. Let me... you this new book.
2. I want to..... English language.
3. Let's go swimming. That's a good...
4. We are in direct.... with Turkey.
5. He was.... blind.
6. It's very...of you to help us.
7. He was one of the most....writers of the
8. I go for ..... in the lake each morning.
9. She ..... glasses for reading.
10. I can .... spicy food.
11. All animals have to eat in order to .....

Q4/ Re-write the following sentence below in the negative form. (Answer six only)

(12 marks)

1. I have got a new bike.
2. They finished the project.
3. He has left the school.
4. I listen to music in the morning.
5. While she was driving the car, a big lorry hit her.
6. They will go to America.
7. The house is big.

Q5 / Choose the suitable Wh-question.

(8 marks)

- |                                     |                          |
|-------------------------------------|--------------------------|
| 1.... time is it?                   | (What/ Who)              |
| 2.....newspaper do you read?        | (Which/ When)            |
| 3.....are these shoes?              | (How/ Whose)             |
| 4.....children do you have?         | (How much/ How many)     |
| 5.....are you wearing?              | ( Whose / What )         |
| 6.....is the station?               | ( Where / When)          |
| 7.....do you have English classes ? | ( How much / How often ) |
| 8.....did you get up early ?        | ( What / Why )           |

Good Luck

A.L. Mohammed Hashim Al-Sharaa

Lecturer

A.P.Dr. Walid Maya Rodin

Head of Department

P.Dr.Abdul-Hussein Tawfiq Shibli

The Dean

المرحلة الثالثة  
الدراسات الصباحية





امتحان النهائي الدور الأول - الفصل الدراسي الثاني

ملاحظة: الإجابة على خمسة اسئلة فقط

- س ١: املأ الفراغات التالية ( لخمسة فقط):
- ١ - من هياكل البيانات الخطية هي .....
  - ٢ - يرمز لكل عنصر في المصفوفة برقم معرف يسمى .....
  - ٣ - ميكانيكية عمل الطابور هو .....
  - ٤ - ميكانيكية عمل المكس هو .....
  - ٥ - ارتفاع الجذر هو ارتفاع .....
  - ٦ - الهياكل التي يرتبط فيها كل عنصر بياني بعدة عناصر بيانية بطريقة تعكس العلاقات بين تلك العناصر تسمى .....
  - ٧ - عندما نحتاج الى وصول اسرع للبيانات نستخدم الهيكل البياني .....

س ٢: اجب عن احد الفرعين:

أ/ عدد واشرح اهمية هياكل البيانات .

ب/ ابحث عن العنصر 250 في المصفوفة ادناه باستخدام ال Binary search :  
 $A = [ 100, 120, 150, 170, 200, 250, 290, 300, 310, 340 ]$

س ٣: لتكن A هي مصفوفة ثنائية من 6 صفوف و 8 اعمدة احسب الموقع الحقيقي للعنصر A[5][7] اذا كان العنوان الاساسي BA هو 300 مستخدما طريقة الاعمدة (اكتب القانون ثم طبق).

س ٤: اذا كانت لديك مصفوفة S من 5 صفوف و 7 اعمدة احسب الموقع الحقيقي لـ A[4][6] استخدم طريقة الصفوف اذا علمت ان العنوان الاساس هو 900 (اكتب القانون ثم طبق).

س ٥: اجب عن احد الفرعين:

أ/ عرف كلا مما يلي: عمق العقدة ارتفاع العقدة الحواف الجذر الورقة  
ب/ هنالك نقاط مهمة لاختيار الهيكل البياني المناسب لتخزين البيانات، عددها؟

س ٦: اجب عن احد الفرعين :

أ/ اكتب مزايا ومساوي الخزن التسلسلي.

ب/ حول تعبير infix الى تعبير postfix باستخدام المكس (stack) :  $A + (B - C) * (D - E) / G$

مع التمنيات بالنجاح

عميد الكلية

أ.د. عبد الحسين توفيق شبلي

رئيس القسم

أ.م.د. وليد مية رودين

مدرس المادة

م.م. ايمان فريد خزعل

مدرس المادة

م. زينب صبيح جمعة

المادة: SPSS

الزمن: ساعتين

العام الدراسي 2022-2023

التاريخ: ٦ / ٦ / ٢٠٢٣



وزارة التعليم العالي والبحث العلمي

جامعة البصرة

كلية الإدارة والاقتصاد

قسم نظم المعلومات الإدارية

امتحان النهائي الدور الأول - الفصل الدراسي الثاني

ملاحظة: الإجابة على اربعة اسئلة فقط / الاجابة بقلم الحاسب

وتوزع الدرجات بالتساوي لكل سؤال 12.5 درجة

س1: املأ الفراغات التالية بما يناسبها :

1. يعتبر البرنامج الاحصائي SPSS من اكثر البرامج الاحصائية
2. يتم تشغيل البرنامج الاحصائي SPSS من خلال القائمة Start بالضغط على
3. نافذة variable view تتضمن وصفاً لصفة كل متغير في
4. نافذة data view عبارة عن ورقة مقسمة الى و
5. الامر يقوم بعرض ملف البيانات بشكله النهائي قبل عملية طباعته على الورق.

\*\*\*\*\*

س2: اجب بكلمة صح او خطأ لكل من العبارات التالية وصحح الخطأ ان وجد :

1. لاضافة متغير الى يمين متغير محدد يكون من القائمة File.
2. لفتح ملف بيانات مخزون سابقا يكون من القائمة File.
3. لحذف محتويات المتغيرات المحددة مسبقاً نضغط على الامر clear.
4. الامر toolbars يبين اشرطة الادوات القياسية المتوفرة في البرنامج .
5. الامر script يتيح هذا النوع من الملفات امكانية خلق وتحرير الخطوط الاسمية .

\*\*\*\*\*

س3: ادخل الجدول التالي في برنامج SPSS ثم اوصف كل متغير وموضحاً نوع كل متغير من المتغيرات ادناه:

تاريخ التعيين	الجنس	الحالة الاجتماعية	الاسماء
2017 / 5 / 14	ذكر	اعزب	Ali
2017 / 1 / 6	انثى	متزوج	Yara
2017 / 1 / 1	ذكر	متزوج	Duraid

\*\*\*\*\*

س4: اشرح شاشة العمل برنامج SPSS التي تظهر عند بدء العمل مع برنامج SPSS .

\*\*\*\*\*

س5: اكتب الخطوات اللازمة لتنفيذ مايلي:

1. اضافة متغير الى متغير محدد .
2. انشاء ملف جديد .
3. لعرض واخفاء شريط الحالة .

مع دعائي لكم بالنجاح

عميد الكلية  
أ.د. عبد الحسين توفيق شبلي

رئيس القسم  
أ.م.د. وليد مية رودين

مدرس المادة  
أ.م.د. نريد حسين بدر





امتحان النهائي الدور الأول - الفصل الدراسي الثاني

ملاحظة: الإجابة على خمسة اسئلة فقط

الإجابة رقم 1/ها هي

س1/ عرف كل مما يأتي:

1- الذكاء الاصطناعي 2- لغة ليسب 3- الانسان الالي 4- اليات التنفيذ 5- بيئة احادية الوكلاء

(10 درجات)

س2/ تمتاز لغات الذكاء الاصطناعي بخصائص ومميزات تناسب طبيعة أنظمة الذكاء الاصطناعي وتطورها. عدد هذه الخصائص مع شرحها باختصار.

(10 درجات)

س3/ ارسم جدول مقياس PEAS لقياس السلوك العقلاي لنظام التشخيص الطبي.

(10 درجات)

س4/ في الذكاء الاصطناعي يصنف الوكلاء حسب برامجهم الى عدة انواع , قارن بين وكيل ذو هدف معين ووكيل قائم على التفضيل (مع الرسم)

(10 درجات)

س5/ وضح مكونات قاعدة المعرفة التي يعتمد عليها اي نظام في الذكاء الاصطناعي (مع الرسم).

(10 درجات)

س6/ وضح باختصار مفهوم الوكيل الذكي ومتى نطلق على الالة بانها ذكية ؟

(10 درجات)

عميد الكلية

الدكتور عبد الحسين نوفيق شبلي

رئيس القسم

أ.م.د. وليد مية رودين

مدرس المادة

م.احمد ناصر اسماعيل



امتحان النهائي الدور الأول - الفصل الدراسي الثاني

ملاحظة: الإجابة على اربعة اسئلة فقط ولكل سؤال ١٢.٥ درجة

Q1\ Write code using HTML and CSS to this form (set the color of page to blue)

لوحة تسجيل الدخول

user name :   
password :

Q2\ Use the CSS properties in the box to complete the sentences ?  
( float, text-decoration, color, font-size, text-align, text-transform )

- 1- Change the text color of an element -----
- 2- Used to set underline for text -----
- 3- Control the text size -----
- 4- Make each word in a text start with a Capital Letter -----
- 5- Position and Format content -----

Q3\ Write HTML tag to the following ?

- 1- Add largest heading with text "جامعة البصرة"
- 2- Define a hyperlink that goes to "<https://www.uobasrah.edu.iq/>"
- 3- Add two radio buttons with the name "courses".
- 4- Define ordered list and display Uppercase Roman Numbers .
- 5- Define a bold text .

Q4\ There are three ways to insert a style sheet to the code in designing webs , write them with examples ?

Q5\ Rewrite the following code in a correct way ?

الصفحة الرئيسية  
اعلا وسهلا بكم

```
<!DOCTYPE html>  
<html lang="en">  
<head>  
<meta charset="UTF-8">  
<meta http-equiv="X-UA-Compatible" content="IE=edge">  
<meta name="viewport" content="width=device-width, initial-scale=1.0">  
<title>test</title>  
<style>  
#h3 {  
padding: 40px;  
border: 1px solid red;  
text-align: center;  
}  
h2  
text-align: center  
</head>  
<body>  
<h2>الصفحة الرئيسية</h2>  
<h3>اعلا وسهلا بكم</h3>  
</body>  
</html>
```

عميد الكلية  
أ.د. عبد الحسين توفيق شبلي

رئيس القسم  
أ.م.د. وليد مية رودين

مدرس المادة  
م. نورا حسن زكي





الثالثة

جامعة البصرة  
كلية الادارة والاقتصاد  
قسم نظم المعلومات الادارية  
الفصل الدراسي الثاني - الدور الاول  
للعام الدراسي 2022-2023



المادة : M S project	المرحلة : الثالثة	التاريخ : 2023 / ٨ / ٨	الزمن : ساعتين
----------------------	-------------------	------------------------	----------------

ملاحظة: الإجابة على خمس أسئلة فقط لكل سؤال 10 درجات.

س 1: هناك سبع خطوات في انشاء اي مشروع عددها ؟

س 2: اجب عن الفرعين أ / عرف 1 / تبويب المشروع 2 / برنامج MS project

ب/ اذكر فوائد برنامج Microsoft project

س 3: اجب عن احد الفرعين أ

الأتي ببيانات لأنشطة مشروع معين

الأنشطة	2-1	3-1	3-2	4-2	4-3	5-3	5-4	6-4	6-5
الزمن المطلوب	5	9	7	3	8	12	1	8	1

المطلوب / تحديد المسار الحرج .

ب/ هناك اربعة انواع من علاقات المهام عددها مع الشرح والرسم ؟

س 4 ماذا يقصد بتقسيم المهام؟

س 5: اجب عن الفرعين أ / عند انشاء مشروع معين هناك المهام الرئيسية والمهام الفرعية وللقيام بالمهام الفرعية هناك خطوات يجب اتباعها اذكر تلك الخطوات ؟

ب/ شرح الاستثناءات وكيف تحديد الايام الاستثنائية ؟

س 6 : اجب عن فرعين مما ياتي أ/ هناك الكثير من التعديلات التي يجب القيام بها في خطة العمل ( ورقة العمل ) مثل؟

ب/ ما هي مكونات الواجهة الرسومية في برنامج MS project ؟

ج/ هناك بعض الملاحظات التي يجب الانتباه لها عند ادخال اسماء المهام في العمود هي ؟

العميد  
أ.د. عبد الحسين توفيق شبلي

معتمديكم بالنجاح  
رئيس القسم  
أ.م.د. وليد مية رودين

مدرس المادة  
م.د. جواد اجباري عبدال

امتحان النهائي الدور الأول - الفصل الدراسي الثاني

ملاحظة: الإجابة على خمسة أسئلة فقط لكل سؤال عشر درجات

س١ // ١ - عدد خمس من مميزات الموسوعات ؟  
٢ - عدد خمس الفوائد التي توفرها الانترنت للمكتبات؟

س٢ / عدد خمس من فوائد ومميزات المواد غير المطبوعة للمكتبات للمستخدمين وعيوبها؟

س٣ // ( ارسم مخطط يبين مصادر المعلومات تاريخيا )) او تحدث بما لا يقل عن عشر اسطر عن نشأة مصادر المعلومات وتطورها ؟

س٤ / عرف خمس ممايلي :-

مفهوم علم المعلومات /٢- مفهوم المعرفة /٣- وسيلة المقابلة الشخصية /٤- وسيلة الاستبيان /٥- الوعاء الالكتروني /٦- مفهوم مصادر المعلومات الالكترونية /٧- مفهوم المكتبة الالكترونية

س٥ / عدد مع الشرح سمات المعلومات ؟

س٦ /١- حدد خمس ن أهمية المعاجم وفوائد استعمالها

٢- عدد خمس منافذ الحصول على مصادر المعلومات الالكترونية

س٧ / تحدث بما لا يقل عن عشر اسطر عن تسويق المعلومات ؟

عمد الكلية

أ.د. عبد الحسين توفيق شبلي

رئيس القسم

أ.م.د. وليد مية رودين

مدرس المادة

م.د. عرفات ناصر جاسم



المرحلة الرابعة  
الدراسات الصباحية والمسائية



الزمن : ساعتين فقط

المادة : نظم ادارة الانتاج و التصنيع المرحلة : الرابعة - صباحي و مسائي التاريخ:

ملاحظة: الإجابة على خمسة أسئلة ولكل سؤال ١٠ درجات.

السؤال الأول/ عرف نظام الايصاء الواسع وعدد خمسة فقط من خصائص هذا النظام.

السؤال الثاني/ ما المقصود بالتصنيع المستدام و بماذا تتميز عمليات و نظم التصنيع المستدام ؟

السؤال الثالث/ اكتب كلمة (صح) امام العبارة الصحيحة و كلمة (خطأ) امام العبارة الخاطئة مع تصحيح الخطأ ان وجد.

١- تتمثل جذور نظام QRM في استراتيجية المنافسة على اساس الوقت.

٢- يعرف التصنيع الفعال بالقدرة على الانتقال السريع من انتاج منتج الى منتج اخر باستخدام تسهيلات الانتاج المرنة و تقنيات المعلومات و الاتصالات السريعة .

٣- مصانع القائد التكنولوجي هي احد نماذج نظام التصنيع الفعال.

٤- ان التفاعل بين المستويات الثلاثة ( مستويات المنتج و العمليات و النظام) يوفر الاستدامة في التصنيع.

٥- يعد الاضطراب السوقي من العوامل الاساسية التي ادت الى انبثاق نموذج الايصاء الواسع و تدهور نموذج الانتاج الواسع.

٦- من المنافع التي تتحقق للمنظمة نتيجة تبني نظام الايصاء الواسع هي تلبية مستلزمات و متطلبات الزبون بالضبط.

٧- ان ادارة دورة حياة المنتج هي احد البرامج التطبيقية الجاهزة الموجودة في منظمات التصنيع بالاستجابة السريعة.

٨- التصنيع المستند على المسؤولية هو معمارية جديدة لنظم الانتاج التي تقع تحت مظلة نموذج QRM.

٩- يتكون المشروع الافتراضي من مجموعة مكونات هي (الاجهزة والمعدات، البرمجيات، الموارد البشرية والاتصالات )

١٠- ان احد عيوب نظام الايصاء الواسع هو التحول في نوع المكائن المستخدمة.



السؤال الرابع / ما هي فوائد تطبيق نظام التصنيع بالاستجابة السريعة ( QRM ) ؟

السؤال الخامس / وضح بالرسم اثنين من الاتي:

١- مسار خارطة الطريق الى التصنيع الفعال ٢- ابعاد التصنيع المستدام ٣- مفهوم الايصاء الواسع


السؤال السادس / ما المقصود بنظام التصنيع الفعال؟ وهي الموارد الرئيسية التي يعتمد عليها نظام التصنيع الفعال؟

مع تمنياتي لكم بالنجاح



أ.د. عبدالحسين توفيق شبلي  
١/٤

عميد الكلية



أ.م.د. وليد مية رودين


رئيس القسم



م.م. محمد هاشم الشرع

مدرس المادة

المادة: تنقيب البيانات  
الزمن: ساعتين  
العام الدراسي 2022-2023



وزارة التعليم العالي والبحث العلمي  
جامعة البصرة  
كلية الإدارة والاقتصاد  
قسم نظم المعلومات الإدارية

امتحان النهائي الدور الأول - الفصل الدراسي الثاني ٢٠٢٢/٢٠٢٣

ملاحظة: الإجابة على خمسة اسئلة فقط / صراحة الإجابة تكلم الرصاصي

س1/ عرف كل مما يأتي:  
1- الخوارزميات الجينية 2- العنقدة 3- OLAP 4- التطفل 5- التشفير (10 درجات)

س2/ قد مرت عملية تطوير تنقيب البيانات بعدة خطوات , وضح هذه الخطوات مع خصائصها على شكل جدول. (10 درجات)

س3/ يعرف اكتشاف المعرفة (KDD) على انه عملية لسيت عادية في تحديد بصمات للبيانات المنقبة. اشرح خطوات اكتشاف المعرفة مع الرسم. (10 درجة)

س4/ بسبب طبيعة عمل الشبكات فان هذا يؤدي الى مشاكل امنية كثيرة. عدد مع الشرح المشاكل الامنية التي تسببها الشبكات عند تعاملها مع البيانات. (10 درجات)

س5/ يعتبر اليوم مجال التنقيب عن البيانات من اكثر المجالات انتشارا وشيوعا . عدد اسباب النمو السريع في الاهتمام بمجال بتنقيب البيانات. (10 درجات)

س6/ الفائدة الرئيسية لتنقيب البيانات هو اكتشاف معلومة او بصمة جديدة ذات اهمية كبيرة. عدد اربعة نماذج من البصمات المنقبة او المكتشفة مع ذكر الامثلة لكل نموذج. (10 درجات)

عميد الكلية  
أ.د. عبد الحسين توفيق شبلي

رئيس القسم  
أ.م.د. وليد مية رودين

مدرس المادة  
م. احمد ناصر اسماعيل



المادة: نظم المعلومات الاستراتيجي  
الزمن: ساعتين  
العام الدراسي ٢٠٢٢-٢٠٢٣



وزارة التعليم العالي والبحث العلمي  
جامعة البصرة  
كلية الإدارة والاقتصاد  
قسم نظم المعلومات الإدارية

امتحان النهائي الدور الأول - الفصل الدراسي الثاني

ملاحظة: الإجابة على خمس أسئلة فقط لكل سؤال عشر درجات

س١/ عرف خمس مميالي :- (١-تخطيط نظم المعلومات الاستراتيجي /٢-مفهوم نظام المعلومات الاستراتيجي /٣-تكنولوجيا المعلومات /٤- الميزة التنافسية ٥- نظم المعلومات الاستراتيجي ٦- دور الانترنت في الاعمال الالكترونية/٧- التجارة الالكترونية )

س٢/ عدد خمس من القضايا الساخنة العشر في تكنولوجيا المعلومات؟

س٣/ ارسم شكلا يوضح فيه خطوات اجتماع توليد أفكار نظام المعلومات الاستراتيجي

س٤/ عدد فوائد خطة نظام المعلومات الاستراتيجي

س٥/ حدد بجدول المنافع والكف ومخاطر خصائص نظام الاعمال الالكترونية

س٦// تحدث بعشر اسطر عن اطار عام للتخطيط لنظم المعلومات الاعمال الالكترونية؟

س٧/ ارسم شكلا يوضح فيه عوامل النجاح الاستراتيجي المستخدمة لاستخدام تكنولوجيا المعلومات

عميد الكلية  
ع / أ.د. عبد الحسين توفيق شبلي

رئيس القسم  
أ.م.د. وليد مية رودين

مدرس المادة  
م.د. عرفات ناصر جاسم



الامتحان النهائي الدور الأول الفصل الدراسي الثاني للعام الدراسي 2022-2023

ملاحظة: الإجابة عن خمسة أسئلة فقط (10 درجات لكل سؤال)

س1: ما هو خطاب الضمان؟ وما هي أركانه؟

س2: ما هي الشروط التي يجب تتوفر في البضائع التي تقبلها المصارف التجارية كضمان؟

س3: يتطلب نظام المعلومات المصرفية تكلفة وهذه التكلفة يمكن تقسيمها إلى تكاليف يمكن قياسها وأخرى يصعب قياسها، وضح ذلك بالتفصيل؟


س4: ما هو الاعتماد المستندي؟ وما هي أهميته بالنسبة للتاجر فاتح الاعتماد المستندي وبالنسبة للمستفيد؟


س5: هناك مجموعة من الوظائف الأساسية التي تتم عن طريق نظام المعلومات المصرفية على اختلاف أنواعها سواء كانت تقليدية أم محوسبه، عدد هذه الوظائف مع الشرح؟


س6: اشرح ملاءة المصرف أو استمرار المركز المالي للمصرف سليماً؟

س7: يترتب على البنوك التجارية أن تساير التطورات الاقتصادية التي تشهدها الدول وان تواجه التحديات التي تتعرض لها ولذلك فأنها لا تحصر نشاطاتها في تمويل العمليات التجارية وتقديم رأس المال العامل بل ستذهب إلى ابعاد من ذلك وتشرع في التمويل التنموي اللازم لكافة القطاعات الاقتصادية ولتحقيق هذه الغاية يمكن أن تلجأ البنوك التجارية إلى وسائل عديدة ما هي هذه الوسائل عددها؟

مع التمنيات لكم بالنجاح

  
عميد الكلية  
ع. أ.د. عبد الحسين توفيق ش

  
رئيس القسم  
أ.م.د. وليد مية رودين

  
مدرس العادة  
أ.م.د. سكنه جهيه فرج





الامتحان النهائي/ الدور الأول - الفصل الدراسي الثاني

ملاحظة: الإجابة على اربعة أسئلة فقط وتوزع الدرجات بالتساوي

س1/ اختر الإجابة الصحيحة:

- 1- التأكد من جودة المنتج بعد الانتهاء من تصنيعه وقبل انتقاله ليد الزبون وذلك ضمانا لخلوه من الأخطاء او العيوب هو .....  
أ- الرقابة المرحلية  
ب- الرقابة البعدية  
ج- الرقابة الوقائية
- 2- ان الجودة هي مسؤولية ..... فلا يمكن ان تتحقق في مجال دون الاخر  
أ- جميع العاملين  
ب- الإدارة العليا فقط  
ج- رؤساء الأقسام
- 3- تحديد الجودة يكون:  
أ - في بداية عمل المنظمة  
ب - من قبل الزبون  
ج - من قبل المنظمة  
د- ليس أي مما ذكر
- 4- ..... عرف إدارة الجودة بانها مجموعة الاعمال التي يلتزم بها جميع افراد المنظمة على اختلاف مستوياتهم من اجل تلبية حاجات الزبائن:  
أ - الشبراوي  
ب - ديمينج  
ج - الصوفي  
د - جوران
- 5- كان من الصعب على رئيس العمال السيطرة على العمل المنجز من قبل كل عامل لذلك تم إيجاد وظيفة:  
أ - حلقات السيطرة النوعية  
ب - رئيس العمال  
ج - الفاحص  
د - كل مما ذكر

س2/ وضح معنى وتعريف كل من المصطلحات الاتية:

- 1- Customer focus
- 2- ISO 9004
- 3- Focus on process
- 4- Employee Empowerment
- 5- Quality vaccine

س3/ قارن بين كل مما يأتي:

- أ- نقاط القوة بين مدخل كروسبي وجوران.
- ب- نقاط الضعف بين مدخل ديمينج وفينبوم.

س4/ اجب كل مما يأتي:

- أ- ماهي فوائد تطبيق إدارة الجودة الشاملة؟
- ب- ماهي مكونات سلسلة ISO 9000؟ وضحها بإيجاز.

س5/ ضع علامة ( √ ) امام العبارة الصحيحة وعلامة ( X ) امام العبارة الخاطئة مع تصحيح الخطأ أينما وجد.

- 1- من الأمور الأساسية التي جاءت بها الجودة التركيز على الأرباح القصيرة الامد على أساس الخوف من التعامل غير الثابت مع المساهمين والبنوك .
- 2- على القيادات الإدارية عدم التصرف وفقا لردود الأفعال.
- 3- وفقا للاتجاهات الحديثة فان أهمية مدير العمليات بدأ الاهتمام فيها كثيرا حيث انها الطريق لتحقيق رضا الزبون .
- 4- تستمد شهرة المنظمة من مستوى مرونة الإدارة في تقبل راي الاخرين فهذا يضيف السمعة الحسنة عليها والانتشار الواسع.
- 5- تعد مشاركة العاملين في القرارات من اهم المرتكزات لنجاح المنظمة وهذا ليس بالضرورة يعني تفويض الصلاحيات لهم.

عميد الكلية  
أ.د. عبد الحسين توفيق شبلي

رئيس القسم  
أ.م.د. وليد مية رودين

مدرس المادة  
د. عبدالرحمن عبدالله عبدالرحمن





امتحان النهائي الدور الأول - الفصل الدراسي الثاني

ملاحظة: الإجابة على خمسة أسئلة فقط

س ١/ ضع كلمة (صح) أو (خطأ) ثم صحح الخطأ

1. يجب على الشركة تحديد استراتيجيتها التنافسية قبل أن تقرر استخدام تكنولوجيا المعلومات.
2. تستطيع الشركة ان تثني عملائها عن شراء البدائل من خلال تحسين الجودة ورفع الأسعار.
3. تكاليف التحول هي عبارة عن التكاليف التي يتحملها البائع نتيجة انتقال المشتري في تعاملاته التجارية من مورد الى آخر.
4. جاء مصطلح الحكومة الالكترونية للدلالة على عمل الاعمال الالكترونية في المؤسسات أو المنظمات العامة.
5. الاعمال الالكترونية هي اطار يشمل كل من الإدارة الالكترونية للدلالة على الاعمال الالكترونية للاعمال.

س ٢/ وضح أهمية الانترنت في بناء عالم الاعمال الالكترونية .

س ٣/ يستند نموذج الاعمال الجديد الى أربعة حقائق وضحها مع الرسم الذي يبين المقارنة بين الاعمال الالكترونية والاعمال التقليدية من ناحية الكلفة وحجم الاعمال.

س ٤/ وضح المقارنة بين مزايا وحلول شبكة الانترنت وحلول الاعمال التقليدية .

س ٥/ هل نعني بالاعمال الالكترونية هي فقط حوسبة الأنشطة والوظائف ؟

س ٦/ أ- ماذا نقصد بالتجارة الالكترونية ؟

ب- ماهي فئات التجارة الالكترونية؟ وضحها .

عميد الكلية

أ.د عبد الحسين توفيق شبلي

رئيس القسم

أ.م.د وليد ميه رودين

مدرس المادة

م.م مريم سالم جبار



جمهورية العراق  
وزارة التعليم العالي والبحث العلمي  
جامعة البصرة



قسم نظم المعلومات الادراية للعام الدراسي ٢٠٢٢-٢٠٢٣  
الدور الاول الدراسات الصباحية والماتية

المادة : نظم المعلومات التشغيلية .. المرحلة : الرابعة ... التاريخ : ١٤٤٤ ... اليوم : ١٤٤٤ ... الزمن : ساعة

ملاحظة : الاجابة على خمسة اسئلة وتوزع الدرجات بالتساوي

س ١ : تكلم عن العلاقة بين المنظمة وانظمة المعلومات بشكل مفصل ؟

(١٠ درجات)

س ٢ : عدد اهم انواع معالجة نظم التعاملات التجارية ؟

(١٠ درجات)

س ٣ : عدد اهم النظم الفرعية المستخدمة في التصنيع مع الشرح ؟

(١٠ درجات)

س ٤ : عدد اهم الجوانب الاساسية لتحليل الوظيفة مع اشرح ؟

(١٠ درجات)

س ٥ : تكلم عن مفهوم الاستقطاب بشكل مفصل ؟

(١٠ درجات)

س ٦ : تكلم عن الاختيار وماهي اهداف الاختيار والتعين عددها ؟

(١٠ درجات)

س ٧ : تكلم عن مفهوم تقويم الاداء والاهمية والاهداف بشكل مفصل ؟

(١٠ درجات)

س ٨ : حدد نموذج كيرك باتريك اربعة مستويات لتقييم التدريب عددها

(١٠ درجات)

مع تمنياتي لكم بالنجاح

رئيس القسم  
أ.م.د. وليد مية رودين

أ.د. عبد الحسين توفيق شبلي

مدرس المادة  
م.م. مسلم خريبط شريذم